



૧. કલરવ (ગુજરાતી - પર્યાવરણ) 2

મૂલ્યાંકન - દ્વિતીય સત્રના પ્રશ્નપત્રનું પરિરૂપ

મય : ૨ કલાક]

[કુલ ગુણ : ૪૦

૧. (અ) જોડકાં જોડો : (ચાર જોડકાં) ૨
- (બ) ઓળખો અને કરો : (બે પ્રશ્ન) ૨
- (ક) ચિત્ર જુઓ, નામ વાંચો અને એ નામ નીચે લખો : (નમૂનો આપ્યો છે.)
(બે પ્રશ્નો) ૨
- (ડ) નામ શોધી માં લખો અને લ, ટ, ચ, ખ અક્ષરો ફરતે કરો :
(નમૂનો આપ્યો છે.) (બે પ્રશ્નો) ૨
૨. (અ) ખાલી જગ્યામાં ખૂટતા અક્ષર લખો : (બે શબ્દો) ૨
- (બ) શબ્દ લખી વાક્ય ફરીથી લખો : (નમૂનો આપ્યો છે.) (બે પ્રશ્નો) ૪
- જો અવધી એક શબ્દમાં જ્યાં લખો? ૪
- (ક) જોડકાં વાંચી સાચા ચિત્ર નીચે માં ✓ કરો : (બે પ્રશ્નો) ૨
- જો અવધી મૂલ્યપૂર્ણ પૂછી કરો? ૨
૩. (અ) માં આપેલા અક્ષરને પંક્તિઓમાં શોધીને તેની ફરતે કરો :
અવધી (નમૂનો આપ્યો છે.) (એક પ્રશ્ન) ૨
૩. (અ) ખાલી જગ્યા પૂરી કરો? ૨
- (બ) કોણ બોલે છે? તે નિશાનીથી બતાવો : (બે વાક્યો) ૨
- (ક) નીચે આપેલા શબ્દો વાંચી નમૂના પ્રમાણે લખો : (ચાર શબ્દો) ૨
- (ડ) વાંચી, સમજીને નવો શબ્દ બનાવો : (નમૂનો આપ્યો છે.)
(બે પ્રશ્નો) ૨
૪. (અ) ઉખાણાં વાંચો અને પક્ષીને ઓળખી તેનું નામ લખો : (બે ઉખાણાં) ૨
- (બ) નીચેનાં ખરાં વાક્યો સામે ની અને ખોટાં વાક્યો સામે ની
નિશાની કરો : (બે વાક્યો) ૨
- (ક) ફળ અને ફૂલ અલગ તારવો અને લખો : (નમૂનો આપ્યો છે.)
(ચાર નામ) ૪

૫. (અ) ચિત્રના આધારે ખૂટતા અક્ષર લખી પૂર્ણ શબ્દ બનાવો : ૨
(નમૂનો આપ્યો છે.) (બે શબ્દો)

૨૫૫૫૫ (બ) શબ્દ બનાવો અને લખો : (નમૂનો આપ્યો છે.) (ત્રણ શબ્દો) ૩
(ક) નીચેનાં વાક્યો વાંચો અને સારા અક્ષરે લખો : (ત્રણ વાક્યો) ૩

અસાઈનમેન્ટ

[અભ્યાસક્રમ : પ્રકરણ દ્વિતી ૧૦]

૧. (અ) જોડકાં જોડો : (ચાર જોડકાં) ૨

પ્રકરણ ૬, ૭ અને ૯

(૧) સરખા શબ્દો જોડો :

દાતરડી	દિવસ
કરવતી	ઈનામ
દિવસ	દાતરડી
મણિ	ઈલાજ
ઈનામ	કરવતી
ઈલાજ	મણિ

૪

વિકાસ મૂલ્યાંકનલક્ષી અસાઈનમેન્ટ - દ્વિતીય સત્ર : ધોરણ ૧

(વિકાસ - મૂલ્યાંકન)



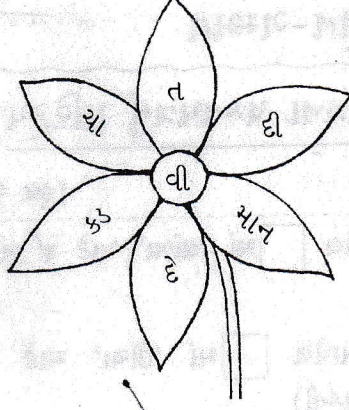
મૂલ્યાંકન - દ્વિતીય સત્રના પ્રશ્નપત્રનું પરિરૂપ

સમય : ૨ કલાક]

[કુલ ગુણ : ૪૦

૧. (અ) ચિત્રનું અવલોકન કરી આપેલ માં 'લાંબા' માટે ✓ તથા 'ટૂંકા' માટે ✗ કરો : (બે પ્રશ્નો) ૨
- (બ) ચિત્રનું અવલોકન કરી આપેલ માં 'ઊંચા' માટે ✓ તથા 'નીચા' માટે ✗ કરો : (બે પ્રશ્નો) ૨
- (ક) ચિત્રનું અવલોકન કરી આપેલ માં 'સૌથી જાડા' માટે ✓ તથા 'સૌથી પાતળા' માટે ✗ કરો : (એક પ્રશ્ન) ૧
- (ડ) ચિત્રનું અવલોકન કરી આપેલ માં 'સૌથી ભારે' માટે ↓ની નિશાની તથા 'સૌથી હલકા' માટે ↑ની નિશાની કરો : (એક પ્રશ્ન) ૧
- (ઈ) ગણો અને આપેલ માં સંખ્યા લખો : (બે પ્રશ્નો) ૨
૨. (અ) યોગ્ય જોડકાં જોડો : (બે પ્રશ્નો) ૪
- (બ) તરત પછીની સંખ્યા લખો : (ચાર સંખ્યાઓ) ૨
- (ક) તરત પહેલાંની સંખ્યા લખો : (ચાર સંખ્યાઓ) ૨
૩. (અ) ઉદાહરણ મુજબ ગણો અને લખો : (બે પ્રશ્નો) ૨
- (બ) ચિત્રમાં કયા આકાર કેટલા છે? ગણો અને લખો : (એક પ્રશ્ન) ૪
- (ક) નીચે આપેલાં નામ વાંચો અને પ્રશ્નોના જવાબ લખો : (બે પ્રશ્નો) ૨
૪. (અ) પેટર્ન આગળ વધારો : (બે પ્રશ્નો) ૨
- (બ) પેટર્નમાં કમ મુજબ શું આવશે? દોરો : (એક પ્રશ્ન) ૧
- (ક) પેટર્નમાં કમ મુજબ શું આવશે? સાચા જવાબની સામેના માં ✓ કરો : (એક પ્રશ્ન) ૧
- (ડ) સમજો અને ખૂટતા અંક લખો : (બે પ્રશ્નો) ૨
- (ઈ) યોગ્ય જોડકાં જોડો : (એક પ્રશ્ન) ૨

(૩)



નમૂનો : તૃવી

(૧)

(૨)

(૩)

(૪)

(૫)

૫. (ક) નીચેનાં વાક્યો વાંચો અને સારા અક્ષરે લખો : (ત્રણ વાક્યો) ૩

(૧) ચકલી દાણા ચણે છે.

(૨) નૈતિક પૈસા આપે છે.

(૩) તીખી ચટણી બનાવ.

(૪) સાર્થકલને બે પૈડાં છે.

(૫) વૈદ દવા આપે છે.

(૬) સૈનિક નિશાન તાકે છે.

(૭) મંદિરમાં શંખ વાગે છે.

(૮) આ મારી ઢીંગલી છે.

(૯) ઢેલ નાચે છે.

(૧૦) મને ઢેબરાં ભાવે છે.

(૧૧) વાડામાં ઢોર છે.

(૧૨) ગાડું ઠ્ઠોઠ્ઠ ભરેલું છે.



૪. ENGLISH

મૂલ્યાંકન - દ્વિતીય સત્રના પ્રશ્નપત્રનું પરિરૂપ

સમય : ૨ કલાક]

[કુલ ગુણ : ૪૦

૧. (અ) નીચેનાં ખાનાંમાં આપેલાં ચિત્રો જોઈ યોગ્ય શબ્દ ફરતે દોરો :
(૯ ચિત્રો) ૬
- (બ) કોંસમાંથી યોગ્ય મૂળાક્ષર વડે સ્પેલિંગ પૂરા કરો : (બે સ્પેલિંગ) ૨
૨. (અ) નીચે આપેલાં ચિત્રોને બંને બાજુએ ઉદાહરણ પ્રમાણે જોડો : (ચાર જોડ) ૪
- (બ) નીચે આપેલાં ચિત્રો જોઈ a, e, i, o કે u વડે ખાલી જગ્યા પૂરો :
(ચાર ખાલી જગ્યાઓ) ૪
૩. (અ) નીચે આપેલાં ચિત્રો જોઈ તેમના સ્પેલિંગ, ઉચ્ચાર અને અર્થ વાંચી ફરીથી લખો : (ચાર ચિત્રો) ૪
- (બ) નીચે આપેલા સ્પેલિંગ અને ઉચ્ચાર વાંચી તેમના અર્થ લખો :
(ચાર શબ્દો) ૪
૪. (અ) માં આપેલા શબ્દોનો ઉપયોગ કરી ચિત્રોનાં નામ લખો :
(૯ ચિત્રો) ૬
- (બ) નીચે આપેલા શબ્દોના સમાન ઉચ્ચારવાળા શબ્દો લખો : (બે શબ્દો) ૨
૫. (અ) અંકો અને શબ્દો જોડો : (ત્રણ જોડ) ૩
- (બ) ચિત્રો ગણો અને અંગ્રેજીમાં અંક લખો : (ત્રણ પ્રશ્નો) ૩
- (ક) નીચે આપેલા અંગ્રેજી અંકોની સામે તેમના અંગ્રેજી ઉચ્ચાર લખો :
(બે અંકો) ૨

प. (क) नीचेना शब्दो सुंदर अक्षरे लपो : (बे शब्दो)

- | | | |
|-----------|-----------|------------|
| (१) यज्ञ | (२) रथ | (३) लड़का |
| (४) लकड़ी | (५) वकील | (६) शरीफा |
| (७) भवानी | (८) भगवान | (९) मगर |
| (१०) मकान | (११) मछली | (१२) मकड़ी |
| (१३) फरसा | (१४) फकीर | (१५) बस |
| (१६) बतख | (१७) बकरी | (१८) भगत |
| (१९) नल | (२०) नट | (२१) नथ |



૩. હિન્દી

7

મૂલ્યાંકન - દ્વિતીય સત્રના પ્રશ્નપત્રનું પરિરૂપ

સમય : ૨ કલાક]

[કુલ ગુણ : ૪૦



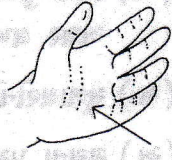

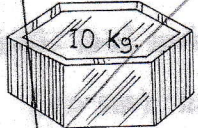

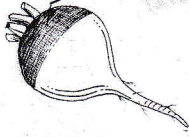
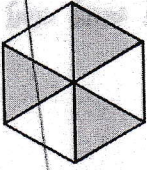
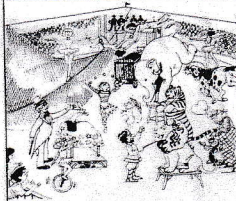
૧. (અ) ચિત્ર જુઓ, તેની નીચે લખેલા શબ્દો વાંચો અને તેમાં બાકી રહેલા અક્ષર લખો : (ચાર ચિત્રો) ૪
- (બ) મૂળાક્ષરોનો મહાવરો કરીને લખો : (ચાર મૂળાક્ષરો) ૪
૨. (અ) સૂચના પ્રમાણે કરો : (બે પ્રશ્નો) ૪
- (બ) મૂળાક્ષરની આગળનો અને પાછળનો મૂળાક્ષર લખો : (ચાર મૂળાક્ષરો) ૪
૩. (અ) સરખા વર્ણ ઉપર ○ કરો : (ચાર પ્રશ્નો) ૪
- (બ) માગ્યા પ્રમાણે કરો : (ચાર પ્રશ્નો) ૪
૪. (અ) ગણતરી કરીને સંખ્યા હિન્દી અંકમાં લખો : (ચાર સંખ્યાઓ) ૪
- (બ) સરખા વર્ણને જોડો : (ચાર વર્ણો) ૨
- (ક) ચિત્રને તેના નામના પહેલા અક્ષર સાથે જોડો : (ચાર ચિત્રો) ૨
૫. (અ) માગ્યા પ્રમાણે કરો : (ચાર પ્રશ્નો) ૪
- (બ) કૌંસમાંથી અક્ષર પસંદ કરીને ખાલી જગ્યા પૂરો : (બે ખાલી જગ્યાઓ) ૨
- (ક) નીચેના શબ્દો સુંદર અક્ષરે લખો : (બે શબ્દો) ૨

અસાઈનમેન્ટ

8

[અભ્યાસક્રમ : નવેમ્બરથી એપ્રિલ સુધીનો]

૧. (અ) ચિત્ર જુઓ, તેની નીચે લખેલા શબ્દો વાંચો અને તેમાં બાકી રહેલા અક્ષર લખો : (ચાર ચિત્રો)

 <p>નટ</p> <p>.....ટ</p>	 <p>ક્ષત્રિય</p> <p>.....ત્રિય</p>	 <p>હથેલી</p> <p>.....થેલી</p>
 <p>લડકા</p> <p>.....ડકા</p>	 <p>વજન</p> <p>.....જન</p>	 <p>શરબત</p> <p>.....રબત</p>
 <p>શલગમ</p> <p>.....લગમ</p>	 <p>ષટ્કોણ</p> <p>.....ટ્કોણ</p>	 <p>સરકસ</p> <p>.....રકસ</p>



પ. સામાન્ય જ્ઞાન

૯

મૂલ્યાંકન - દ્વિતીય સત્રના પ્રશ્નપત્રનું પરિરૂપ

સમય : ૨ કલાક]

[કુલ ગુણ : ૪૦

૧. કૌંસમાં આપેલા શબ્દોમાંથી યોગ્ય શબ્દ પસંદ કરી ખાલી જગ્યા પૂરો :
(આઠ ખાલી જગ્યાઓ) ૮
૨. (અ) નીચે કેટલાક તહેવારોનાં ચિત્રો આપેલાં છે. એ ચિત્રોને ઓળખી ખાલી જગ્યામાં એ તહેવારનું નામ કૌંસમાંથી પસંદ કરી લખો : (ત્રણ ચિત્રો) ૩
- (બ) નીચે કેટલાંક પ્રાણીઓ, તેમનાં બચ્ચાં અને રહેઠાણોનાં ચિત્રો આપેલાં છે. આ ચિત્રોને ઓળખી તેમનાં સાચાં નામ ખાલી જગ્યામાં કૌંસમાંથી પસંદ કરી લખો : (ત્રણ ચિત્રો) ૩
- (ક) નીચે શાકભાજીનાં ચિત્રો આપેલાં છે. એ શાકભાજીને ઓળખી તેમની નીચે તેમનાં નામ કૌંસમાંથી પસંદ કરી લખો : (બે ચિત્રો) ૨
૩. નીચેનાં વિધાનોમાંથી ખરાં વિધાનો સામે [✓]ની અને ખોટાં વિધાનો સામે [x]ની નિશાની કરો : (આઠ વિધાનો) ૮
૪. (અ) દરેક પ્રશ્નના સાચા ઉત્તર સામે [✓]ની નિશાની કરો : (બે પ્રશ્નો) ૨
- (બ) નીચે આપેલાં ચિત્રો જુઓ. આ ચિત્રો માટે આપેલાં નામોમાંથી સાચાં નામ સામે [✓]ની નિશાની કરો : (ત્રણ ચિત્રો) ૩
- (ક) નીચે આપણી આસપાસનાં કેટલાંક જાણીતાં સ્થળોનાં ચિત્રો આપેલાં છે. આ ચિત્રોને ઓળખો અને તેમનાં નામ આપેલી ખાલી જગ્યામાં કૌંસમાંથી પસંદ કરી લખો : (ત્રણ ચિત્રો) ૩
૫. (અ) નીચે કેટલીક રમતોનાં ચિત્રો આપેલાં છે. એ ચિત્રો ઓળખી તેમની નીચે તેમનાં નામ કૌંસમાંથી પસંદ કરી લખો : (બે ચિત્રો) ૨
- (બ) નીચે ચિત્રમાં આપેલી કામ કરનારી વ્યક્તિઓને ઓળખી તેમની નીચે તેમનાં નામ કૌંસમાંથી પસંદ કરી લખો : (ત્રણ ચિત્રો) ૩
- (ક) નીચેના પ્રશ્નોના ઉત્તર એક શબ્દમાં લખો : (ચારમાંથી કોઈ પણ ત્રણ) ૩

અસાઈનમેન્ટ

૧

[અભ્યાસક્રમ : પ્રકરણ ૧૩ થી ૨૫]

૧. કૌંસમાં આપેલા શબ્દોમાંથી યોગ્ય શબ્દ પસંદ કરી ખાલી જગ્યા પૂરો :
(આઠ ખાલી જગ્યાઓ)

પ્રકરણ ૧૩

- (૧) રીંગણનો રંગ હોય છે. (પીળો, જાંબલી)
(૨) ટમેટાનો રંગ હોય છે. (લીલો, લાલ)
(૩) મૂળાનો રંગ હોય છે. (સફેદ, વાદળી)
- ઉત્તર : (૧) જાંબલી (૨) લાલ (૩) સફેદ

પ્રકરણ ૧૪

- (૧) રણમાં માલસામાનની હેરફેર માટે ઉપયોગી છે. (ઘોડો, ઊંટ)
(૨) ઘેટું આપણને આપે છે. (ઈંડાં, ઊંન)
(૩) મરઘી આપણને આપે છે. (દૂધ, ઈંડાં)
(૪) ગાય આપણને આપે છે. (ઊંન, દૂધ)
- ઉત્તર : (૧) ઊંટ (૨) ઊંન (૩) ઈંડાં (૪) દૂધ

પ્રકરણ ૧૫

- (૧) પંખીઓને મજબૂત હોય છે. (પાંખ, ચાંચ)
(૨)ની ચાંચ લાલ હોય છે. (પોપટ, ચક્લી)
(૩) વસંતઋતુમાં મીઠા ટહુકા કરે છે. (મોર, કોયલ)
(૪) પાંખો ફેલાવીને આનંદથી નાચે છે. (મોર, કૂકડો)
- ઉત્તર : (૧) ચાંચ (૨) પોપટ (૩) કોયલ (૪) મોર

પ્રકરણ ૧૬

- (૧)ને લાંબી સૂંઠ છે. (શિયાળ, હાથી)
(૨) ભારતનું રાષ્ટ્રીય પ્રાણી છે. (સિંહ, વાઘ)
(૩)ના શરીર પર કાળા અને પીળા પટ્ટા છે. (વાઘ, રીંછ)
(૪)ના માથા પર શિંગડાં છે. (હરણ, ઝીંબ્રા)
- ઉત્તર : (૧) હાથી (૨) વાઘ (૩) વાઘ (૪) હરણ

નોંધ : અહીં કમ્પ્યુટર પરિચય વિષયના મૂલ્યાંકનનું પ્રશ્નપત્રનું પરિરૂપ આપવામાં આવ્યું છે. સંપૂર્ણ અભ્યાસક્રમને ધ્યાનમાં લઈ શાળાએ ૨૫ ગુણનું પ્રકૃતિકલ મૂલ્યાંકન કરવાનું રહેશે. પ્રશ્નપત્ર ૨૫ ગુણનું રહેશે.



૬. કમ્પ્યુટર પરિચય

સમય : ૧ કલાક

[સંપૂર્ણ અભ્યાસક્રમ]

[કુલ ગુણ : ૨૫]

- | | |
|--|----|
| ૧. નીચેનાં વાક્યો વાંચો. સાચા શબ્દ પર વર્તુળ દોરો : (બાર વાક્યો) | ૧૨ |
| ૨. ચિત્રો જુઓ. ખાલી જગ્યા પૂરો : (પાંચ ચિત્રો) | ૫ |
| ૩. કીને તેનાં નામ સાથે જોડો : (આઠ કી) | ૮ |

12.

નોંધ : અહીં ચિત્રકલા વિષયના મૂલ્યાંકનનું પ્રશ્નપત્રનું પરિરૂપ આપવામાં આવ્યું છે. સંપૂર્ણ અભ્યાસક્રમને ધ્યાનમાં લઈ શાળાએ ૨૦ ગુણ આંતરિક આપવાના રહેશે.



૭. ચિત્રકલા

સમય : ૩ કલાક]

[સંપૂર્ણ અભ્યાસક્રમ]

[કુલ ગુણ : ૮૦

૧. આપેલી રેખાકૃતિને પેન્સિલ વડે પૂર્ણ કરી ચિત્ર દોરો : (એક રેખાકૃતિ) ૩૦
૨. આપેલી રેખાકૃતિને પેન્સિલ વડે પૂર્ણ કરી તેમાં રંગ પૂરો. રંગ પૂરવા પેન્સિલ કલર, ક્યોન કલર અથવા પેસ્ટલ કલરનો ઉપયોગ કરો : (એક રેખાકૃતિ) ૫૦



૨. ગણિત-ગમ્મત

મૂલ્યાંકન - દ્વિતીય સત્રના પ્રશ્નપત્રનું પરિરૂપ

સમય : ૨ કલાક]

[કુલ ગુણ : ૪૦

૧. (અ) ચિત્રનું અવલોકન કરી આપેલ માં 'લાંબા' માટે $\sqrt{\quad}$ તથા 'ટૂંકા' માટે \times કરો : (બે પ્રશ્નો) ૨
- (બ) ચિત્રનું અવલોકન કરી આપેલ માં 'ઊંચા' માટે $\sqrt{\quad}$ તથા 'નીચા' માટે \times કરો : (બે પ્રશ્નો) ૨
- (ક) ચિત્રનું અવલોકન કરી આપેલ માં 'સૌથી જાડા' માટે $\sqrt{\quad}$ તથા 'સૌથી પાતળા' માટે \times કરો : (એક પ્રશ્ન) ૧
- (ડ) ચિત્રનું અવલોકન કરી આપેલ માં 'સૌથી ત્વારે' માટે \downarrow ની નિશાની તથા 'સૌથી હલકા' માટે \uparrow ની નિશાની કરો : (એક પ્રશ્ન) ૧
- (ઈ) ગણો અને આપેલ માં સંખ્યા લખો : (બે પ્રશ્નો) ૨
૨. (અ) યોગ્ય જોડકાં જોડો : (બે પ્રશ્નો) ૪
- (બ) તરત પછીની સંખ્યા લખો : (ચાર સંખ્યાઓ) ૨
- (ક) તરત પહેલાંની સંખ્યા લખો : (ચાર સંખ્યાઓ) ૨
૩. (અ) ઉદાહરણ મુજબ ગણો અને લખો : (બે પ્રશ્નો) ૨
- (બ) ચિત્રમાં કયા આકાર કેટલા છે? ગણો અને લખો : (એક પ્રશ્ન) ૪
- (ક) નીચે આપેલાં નામ વાંચો અને પ્રશ્નોના જવાબ લખો : (બે પ્રશ્નો) ૨
૪. (અ) પેટર્ન આગળ વધારો : (બે પ્રશ્નો) ૨
- (બ) પેટર્નમાં કમ મુજબ શું આવશે? દોરો : (એક પ્રશ્ન) ૧
- (ક) પેટર્નમાં કમ મુજબ શું આવશે? સાચા જવાબની સામેના માં $\sqrt{\quad}$ કરો : (એક પ્રશ્ન) ૧
- (ડ) સમજો અને ખૂટતા અંક લખો : (બે પ્રશ્નો) ૨
- (ઈ) યોગ્ય જોડકાં જોડો : (એક પ્રશ્ન) ૨

૫. (અ) ન

(બ) ય

(ક) કે

(ડ) ની

૧. (અ) ચિ

મા

- પ. (અ) નીચે આપેલી વસ્તુઓની કિંમતના આધારે પ્રશ્નોના જવાબ લખો :
 (બે પ્રશ્નો) ૨
- (બ) યોગ્ય જોડકાં જોડો : (એક પ્રશ્ન) ૨
- (ક) કેટલા દશક? કેટલા એકમ? માં લખો : (બે પ્રશ્નો) ૨
- (ડ) નીચે આપેલી સંખ્યાઓમાં સૌથી મોટી સંખ્યા ફરતે તથા સૌથી નાની સંખ્યા ફરતે કરો : (બે પ્રશ્નો) ૨

અસાઈનમેન્ટ

[અભ્યાસક્રમ : પ્રકરણ ૭ થી ૧૩]

૧. (અ) ચિત્રનું અવલોકન કરી આપેલ માં 'લાંબા' માટે \checkmark તથા 'ટૂંકા' માટે \times કરો : (બે પ્રશ્નો) ૨

પ્રકરણ ૭

